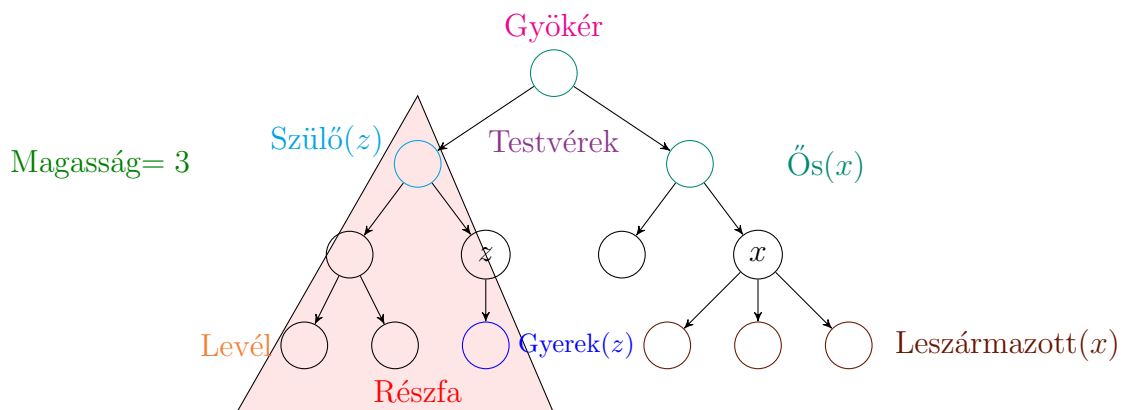


Keresőfák

Fák

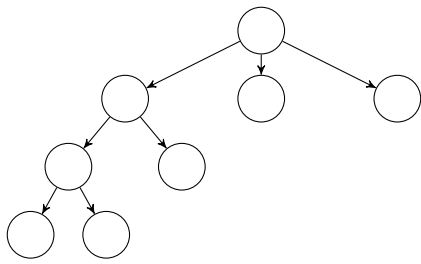
- **Fa:** összefüggő, körmentes gráf, melyre igaz, hogy:
 - (Általában) egy gyökér csúcsa van, melynek 0 vagy több részfája van
 - Pontosan egy út vezet bármely két csúcsa között
 - A gyökéren kívül minden csúcsnak pontosan egy szülője van
- **Szülő(i):** az a csúcs, amely közvetlenül az i felett van
- **Gyerek(i):** az i csúcs alatt közvetlen lévő csúcsok
- **Testvérek:** ugyanannak a csúcsnak a gyerekei
- **Gyökér:** az egyetlen csúcs, aminek nincsen szülője
- **Levél:** olyan csúcs, amelynek nincs gyereke
- **Magasság:** a gyökértől bármely levélbe vezető leghosszabb út
- **Részfa(n):** az a fa, amelynek a gyökere az n
- **Ős(n):** minden csúcs az n -től a gyökérig vezető úton
- **Leszármazott(n):** minden csúcs, amely az n gyökerű részfában van



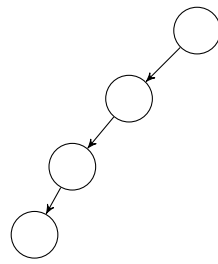
Bináris fák

- **Bináris fa:** minden csúcsnak legfeljebb 2 gyereke van
- **Teljes (full) bináris fa:** olyan bináris fa, ahol minden szint teljesen ki van töltve
- **Majdnem teljes (complete) bináris fa:** olyan bináris fa, ahol maximum a legalsó szint nincs teljesen kitöltve, csak balról jobbra haladva kitöltött néhány elemig
- **Kiegyensúlyozott bináris fa:** olyan fa, ahol minden csúcs gyerekeinek részfájának magassága maximum eggyel tér el.

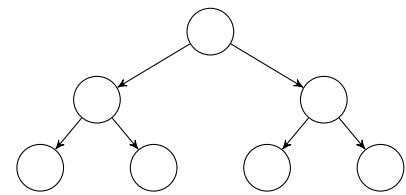
1. Feladat Döntsük el a következő fákról, hogy mely tulajdonság igaz rájuk a következők közül: fa, bináris fa, teljes bináris fa, majdnem teljes bináris fa, kiegyensúlyozott bináris fa!



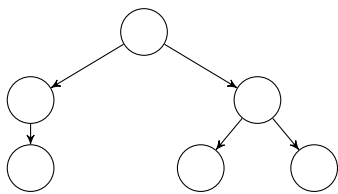
(a)



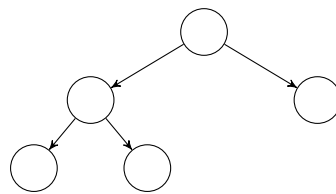
(b)



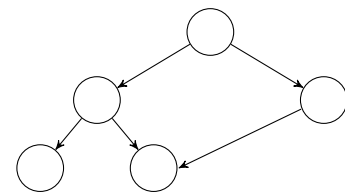
(c)



(d)



(e)



(f)

Megoldás

- (a) fa
- (b) fa, bináris fa
- (c) fa, bináris fa, majdnem teljes bináris fa, teljes bináris fa, kiegyensúlyozott bináris fa
- (d) fa, bináris fa, kiegyensúlyozott bináris fa
- (e) fa, bináris fa, majdnem teljes bináris fa, kiegyensúlyozott bináris fa
- (f) egyik sem, mert sérti a „minden csúcsnak csak egy szülője van” feltételt

Bináris keresőfák (BST)

A bináris keresőfa egy olyan adatszerkezet, amely olyan elemeket tárol, melyeknek kulcsa egy teljesen rendezett univerzumból való (pl. egészek). Feltesszük, hogy minden elem kulcsa egyedi. Egy bináris keresőfa a következő műveleteket támogatja:

- $\text{search}(i)$: visszaadja azt az elemet, aminek a kulcsa i
- $\text{insert}(i)$: beszúrja az i kulcsú elemet a fába (ha még nem volt benne)
- $\text{delete}(i)$: törli az i kulcsú elemet a fából, ha az létezik

A bináris keresőfa **legfontosabb tulajdonsága**, hogy minden x csúcsra a bal részfájában lévő összes elem kisebb, mint az x kulcsa, míg a jobb részfájában lévő összes elem nagyobb, mint az x kulcsa.

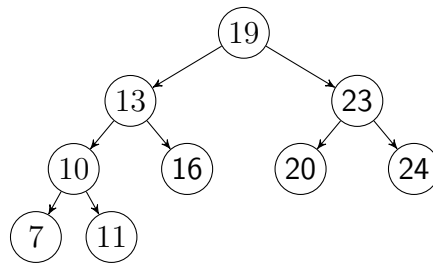
Keresés bináris keresőfában

```
search(x, i){  
  if(key(x) == i) return x  
  else if (i < key(x))  
    if(left(x) == NIL) return x  
    else return search(left(x), i)  
  else if (i > key(x))  
    if(right(x) == NIL) return x  
    else return search(right(x), i)}
```

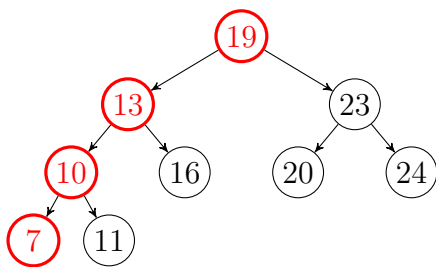
Keressük az x gyökerű részében az i kulcsú elemet.

1. Ha a gyökér az, adjuk vissza
2. Ha a i kisebb, mint a gyökér kulcsa, keressük a bal részében, ha van neki
3. Ha a i nagyobb, mint a gyökér kulcsa, keressük a jobb részében, ha van neki
4. Ha a részfa, amire lépnénk x -ről, nem létezik, adjuk vissza az x -et

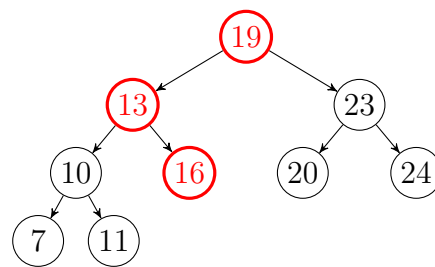
2. Feladat Keressük meg a következő keresőfában az alábbi elemeket: 5, 16, 24.



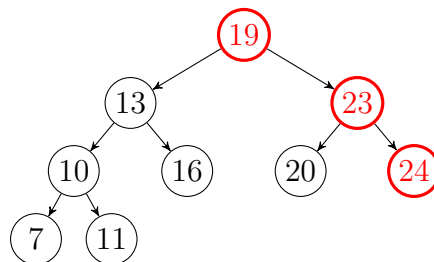
Megoldás



(a) search(5)



(b) search(16)



(c) search(24)

Beszúrás bináris keresőfába

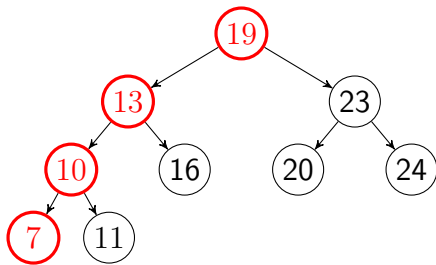
```
insert(i){
  x = search(i)
  if(key(x)==i) return
  y = new node()
  key(y) = i
  left(y)= NIL
  right(y)= NIL
  p(y)= x
  if (i < key(x))
    left(x) = y;
  else
    right(x) = y}
```

Az i csúcs beszúrásának lépései (továbbra is feltesszük, hogy a fában a kulcsok egyediek, így nem szűrhatjuk be kétszer)

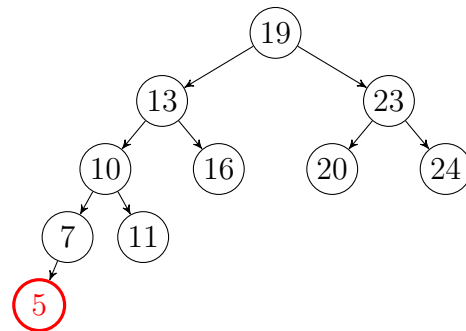
- Keressünk rá az i -re, ez ha még nincs benne a fában, vissza fogja adni azt a csúcsot, ami alá be kell szúrni az i -t (ő lesz a szülője).
- Hozzunk létre egy új csúcsot (y) és szúrjuk be:
 - Ha i kisebb, mint az x kulcsa, akkor bal gyerekeknek
 - Ha i nagyobb, mint az x kulcsa, akkor jobb gyerekeknek

3. Feladat Szúrjuk be az előző feladatban látott keresőfába az 5 és 22 értékeket.

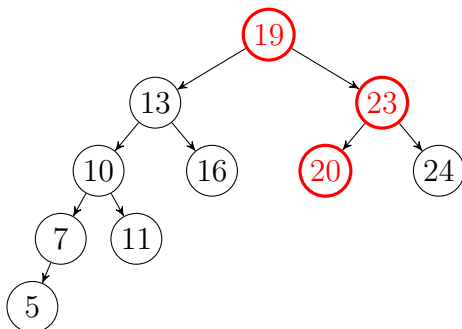
Megoldás



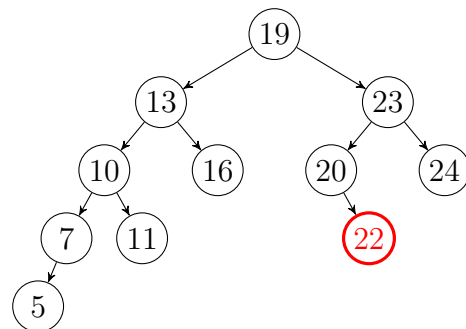
(a) search(5)



(b) new node()



(c) search(22)



(d) new node()

Törlés bináris keresőfából

Három esetet különböztetünk meg az x csúcs törlésekor:

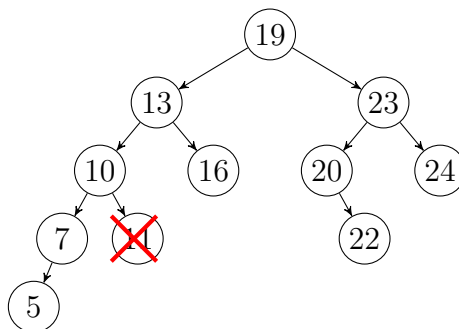
1. Ha x -nek nincs gyereke, töröljük, a szülő rá mutató pointerét NIL-re cseréljük.
2. Ha x -nek pontosan egy gyereke van c , mindegy, hogy bal vagy jobb gyerek volt, felemeljük az x helyére (x szülőjének gyereke c , c szülője az x szülője lesz).
3. Ha az x -nek két gyereke van (c_1 bal és c_2 jobb gyerek), megkeressük az x közvetlen rákövetkezőjét z -t, és őt tesszük x helyére a fában.
 - Ebben az esetben jegyezzük meg, hogy mivel z a c_2 gyökerű részében van így egyszerűen rákereshetünk ($search(c2, key(x))$).
 - Viszont mivel z az x rákövetkezője, így biztosan nincs bal gyereke, viszont jobb gyereke még lehet.
 - Ha van jobb gyereke, állítsuk rá z szülőjének pointerét (és z gyerekének szülője legyen z szülője).
 - Cseréljük ki x -et z -vel és állítsuk be a megfelelő pointereket, majd töröljük x -et, mint az 1. esetben.

(Egy másik megoldás, hogy x közvetlen megelőzőjét keressük meg és a fentieket tükrözve hajtjuk végre a cseréket.)

4. Feladat Töröljük az előző feladatban beszúrások után kapott fából a 11, 7 és 19 elemeket.

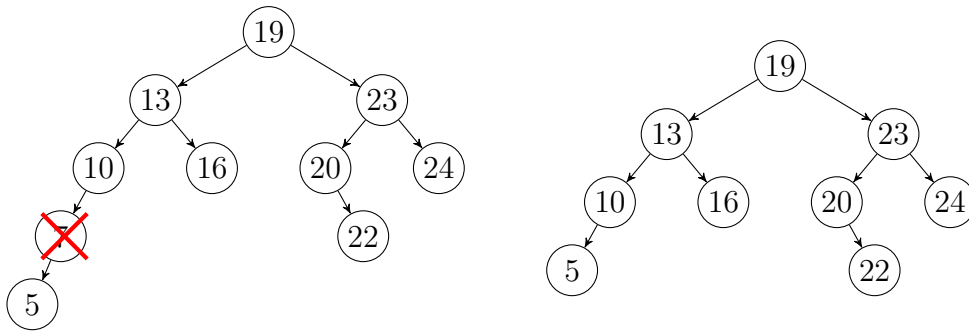
Megoldás

A 11-nek nincsen gyereke: 1. eset. Simán kitörölhetjük.



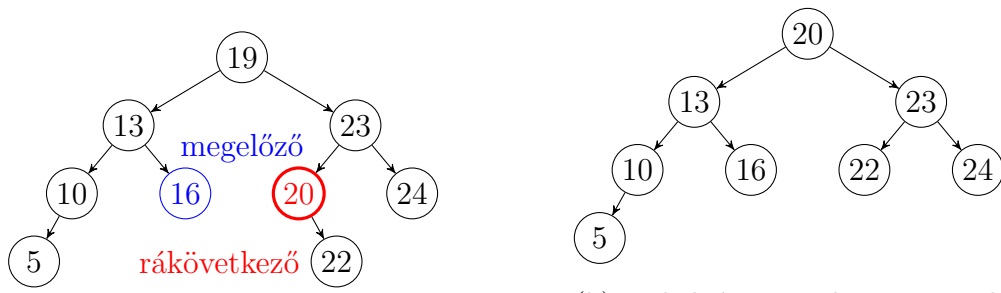
4. Ábra.: delete(11)

A 7-nek egy gyereke van: 2. eset. Rakjuk a helyére az 5-öt.



5. Ábra.: delete(7)

A 19-nek két gyereke van: 3. eset. Keressük meg a rákövetkezőjét.



(a) *search(23, 19)*

(b) 20 helyére tegyük a 22-t, 19 helyére a 20-at

6. Ábra.: delete(19)

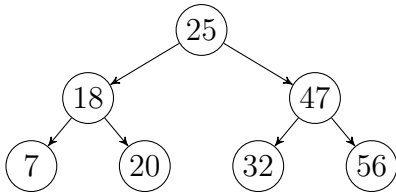
Megjegyzés: Egy helyes megoldás lett volna az is, ha a 19-et a 16-tal cseréljük ki.

Futásidő

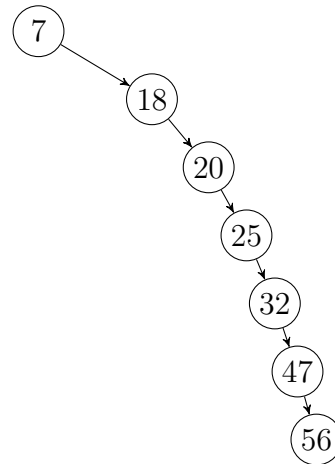
- Keresés: maximum annyit megyünk lefelé, amilyen magas a fa, tehát $O(\text{magassag})$.
- Beszúrás és törlés: mindkettőben használjuk a keresést, a többi művelet (pointerek átállítása) konstans időben végezhető, így ez is $O(\text{magassag})$

5. Feladat Határozzuk meg mi a minimum és maximum lehetséges magassága egy n elemű fának. Ehhez szúrjuk be egy fába a következő sorrendben a 25, 18, 47, 7, 20, 32, 56 elemeket és egy másikba 7, 18, 20, 25, 32, 47, 56 sorrendben.

Megoldás



(a) A 25, 18, 47, 7, 20, 32, 56 sorrend fája



(b) A 7, 18, 20, 25, 32, 47, 56 sorrend fája

Tehát egy bináris fa mérete akkor a **legalacsonyabb**, ha (majdnem) **teljes** a fa. Egy n -csúcsú teljes fa magassága pedig $\log n$, így egy keresés időigénye $O(\log n)$.

Legrosszabb esetben, ha például egy n elemű növekvő, vagy csökkenő sorozatot kell eltárolnunk egy bináris fában, akkor egy n hosszú **láncot** kapunk. Ekkor a keresés $O(n)$ ideig tart.

Megjegyzés: tehát érdekünk a fa magasságát minél alacsonyabban tartani, minél közelebb egy teljes bináris fáéhoz. Ezt a gyakorlatban lokális forgatásokkal oldják meg különböző technikák és feltételek alapján. Például kiegyensúlyozott bináris keresőfák az AVL fák, Piros-fekete fák vagy Splay fák.

6. Feladat Írjunk algoritmust, ami egy elsőfiú-testvér ábrázolású fának megállapítja a magasságát! (6.1)

Megoldás

Az algoritmus azon rekurzív összefüggés alapján számítja ki a fa magasságát, hogy minden csúcs magassága a gyerekei magasságának a maximuma +1. (A levelek magassága 0.)

```
magassag(f)
  max = -1
  g = f.elfoiu
  while(g!=NIL)
    m = magassag(g)
    if(m > max)
      max = m
    g = g.testver
  return max + 1
```

7. Feladat Írjunk olyan rekurzív algoritmust, ami egy elsőfiú-testvér ábrázolású fának megadja a levelei számát! (6.8)

Megoldás

Az algoritmus azon rekurzív összefüggés alapján számítja ki a fa leveleinek számát, hogy minden csúcs alatt található levelek száma a csúcs gyerekei alatt található gyerekek számának összege. (A leveleken ez a szám 1.)

```
levelek(f)
  if(f.elfoiu = NIL) return 1
  sum = 0
  g = f.elfoiu
  while(g != NIL)
    sum = sum + levelek(g)
    g = g.testver
  return sum
```


8. Feladat Írjunk olyan rekurzív algoritmust, ami egy elsőfiú-testvér ábrázolású fában megadja adott k paraméterre, hogy a fának hány csúcsa van a k szinten! (6.5)

Megoldás

Az algoritmus azon rekurzív összefüggés alapján számítja ki a k . szinten lévő csúcsok számát, hogy az első szinten a gyökér van, így az alapeset 1. A k . szinten annyi elem van, ahány részfa kezdődik azon a szinten.

```
KSzint(f, k)
  if(k = 1) return 1
  if(f.elfoiu = NIL) return 0
  sum = 0
  g = f.elfoiu
  while(g != NIL)
    sum = sum + KSzint(g, k-1)
    g = g.testver
  return sum
```